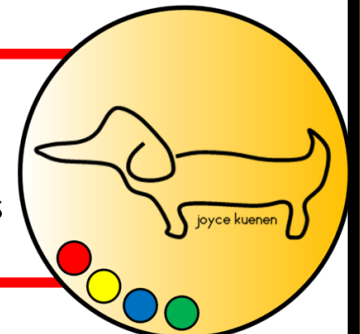




verhaaltjessommen niveau LIB M3: deel 2

Juf Joyce Kuenen

Facebook & Samenvooronderwijs



/ in welke emmer zitten de meeste sneeuwballen?



16



27



23



31



2.

het is nu 6 uur. over 1 uur begint de wedstrijd. hoe laat is het dan?



3.

welk getal ligt het dichtst bij 49?

46

50



41

59



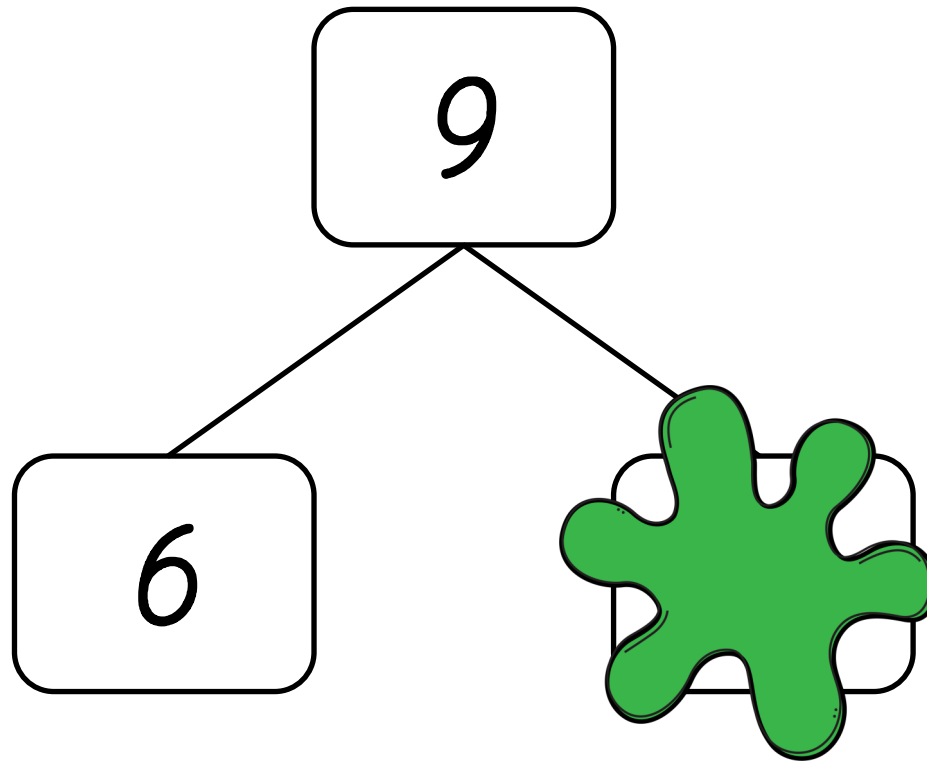
4.

ik koop een doosje aardbeien van 6 euro en een doosje bessen van 5 euro. hoeveel moet ik betalen?



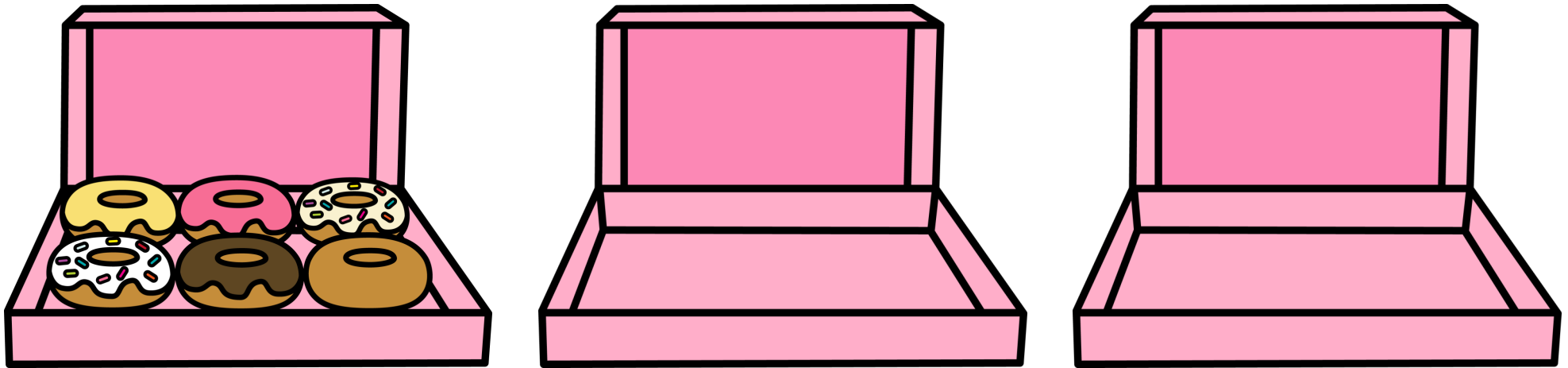
5.

9 kun je splitsen in 6 en ?
welk getal staat onder de groene vlek?



6.

tim heeft 3 dozen. in elke doos legt hij
6 donuts. hoeveel donuts zijn dat samen?



7.


14 eraf 10. hoeveel blijft er over?

$$14 - 10 =$$




8.

in het ene doosje zitten 12 aardbeien en in het
andere doosje 6. hoeveel is dat samen?



12



6




9.

welk getal staat er onder de groene vlek?

3

6

9

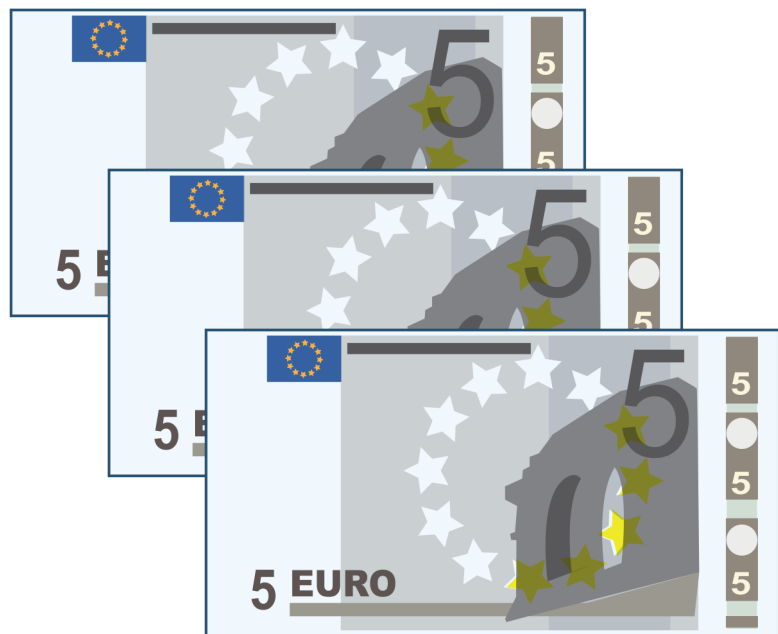


15



10.

tim heeft 15 euro. hij koopt een doos donuts van 6 euro. hoeveel euro heeft tim over?



€6



//.

hoeveel is 3 erbij 8 erbij 4 samen?

$$3 + 8 + 4 =$$



12.

kim heeft 17 sneeuwballen. ze gooit er 10.
hoeveel sneeuwballen zitten er nog in de emmer?




17



13.

welk getal staat er onder de oranje vlek?



20

22



14.

13 eraf 2 eraf 3. hoeveel blijft er over?

$$13 - 2 - 3 =$$



15.

kim, suus en tim hebben allemaal een emmer met 10 sneeuwballen. hoeveel sneeuwballen zijn dat samen?



16.

kim spaart postzegels. ze heeft er al 5.
van tim krijgt er 5 bij en van suus nog 3.
hoeveel postzegels heeft kim nu?



17.


25 eraf 15. hoeveel blijft er over?

$$25 - 15 =$$



18.

tim legt een tangram. hij heeft al 3 stukken neergelegd. hoeveel stukken moet hij nog?



19.






6 erbij 9. hoeveel is dat samen?

$$6 + 9 =$$



20.

suus heeft 4 cavia's. elke cavia krijgt 2 wortels.
hoeveel wortels heeft zij nodig?



1.

2.

3.

4.

5.

6.

7.

8.

9.

10.

11.

12.

13.

14.

15.

16.

17.

18.

19.

20.

